



MKG-IX/TECHPGTSM/1T/02

Write here Roll Number and Answer-Sheet No.

यहाँ क्रमांक एवं उत्तर-पत्रिका संख्या लिखें

POST CODE / पोस्ट कोड :

116/17

Roll No. / अनुक्रमांक

Answer-Sheet No. / उत्तर-पत्रिका संख्या

Roll Number input boxes

Answer Sheet Number input boxes

Time Allowed : 3 hours

OBJECTIVE TYPE TIER-ONE EXAMINATION

Maximum Marks : 300

निर्धारित समय : 3 घंटे

वस्तुनिष्ठ टियर-वन परीक्षा

अधिकतम अंक : 300

Declaration by Invigilator :

I Certify that I have checked the Roll Number and the Answer Sheet Number written by the Candidate on the question paper and the OMR Sheet are correct and the Answer Sheet Number matches the Question Booklet Number exactly.

Signature of the Invigilator with Name

Declaration by Candidate :

I undertake not to employ any unfair means in this exam. I have checked the Question Booklet Number and the Answer Sheet Number and both are identical and have been correctly entered by me wherever indicated.

Signature of the Candidate with Name

Read the following instructions carefully before you begin to answer the questions.

प्रश्नों के उत्तर देने से पहले नीचे लिखे अनुदेशों को ध्यान से पढ़ लें ।

IMPORTANT INSTRUCTIONS TO CANDIDATES

- 1. All questions are compulsory and carry equal marks.
2. The paper carries negative markings. For each wrong answer 0.25 mark will be deducted.
3. In case of any discrepancy between the English and Hindi versions of any question, the English version will be treated as final/authentic.
4. The candidate needs to circle as "00" as the first 2 digits in the first 2 columns of the Roll No., if the Roll No. is a 8 digit No..
5. OMR Answer-Sheet is enclosed in this Booklet. You must complete the details of Roll Number, Question Booklet No., etc., on the Answer-Sheet and Answer-Sheet No. on the space provided above in this Question Booklet, before you actually start answering the questions, failing which your Answer-Sheet will not be evaluated and you will be awarded 'ZERO' mark.
6. You must not tear off or remove any sheet from this Booklet. The Answer-Sheet must be handed over to the Invigilator before you leave the Examination Hall.
7. This Booklet contains 300 questions in all comprising the following Sections :

Table with 4 columns: Sections, Test Components, No. of Questions, Page No.

- 8. Use of Calculator/Palmtop/Laptop/Other Digital Instrument/Mobile/Cell Phone/Pager is not allowed.
9. Candidates found guilty of misconduct/using unfair means in the Examination Hall will be liable for appropriate penal/legal action.
10. The manner in which different questions are to be answered has been explained at the back of this Booklet, which you should read carefully before actually answering the questions.
11. No Rough Work is to be done on the Answer-Sheet.

उम्मीदवारों के लिए महत्वपूर्ण अनुदेश

- 1. सभी प्रश्न अनिवार्य हैं तथा सबके बराबर अंक हैं ।
2. प्रश्न पत्र में नकारात्मक अंकन होगा । हर गलत उत्तर के लिए 0.25 अंक काटा जायेगा ।
3. यदि किसी प्रश्न के हिन्दी तथा अंग्रेजी अनुवाद में कोई अंतर है तो अंग्रेजी अनुवाद को ही सही समझा जायेगा ।
4. यदि अनुक्रमांक 8 अंकीय संख्या है, तो अभ्यर्थी अनुक्रमांक के पहले 2 कॉलम में पहले 2 अंक के रूप में "00" को अंकित करें ।
5. इस उत्तर-पुस्तिका में ओ.एम.आर. उत्तर-पत्रिका संलग्न है। प्रश्नों के उत्तर वास्तव में शुरू करने से पहले आप उत्तर-पत्रिका में अपना रोल नम्बर, प्रश्न पुस्तिका संख्या, इत्यादि तथा इस प्रश्न पुस्तिका में उपरोक्त दिए गए स्थान पर उत्तर-पत्रिका की संख्या लिखें। अन्यथा आपकी उत्तर-पत्रिका को जाँचा नहीं जायेगा और शून्य अंक दिया जायेगा।
6. इस पुस्तिका से कोई पन्ना फाड़ना या अलग करना मना है। परीक्षा-भवन छोड़ने से पहले उत्तर-पत्रिका निरीक्षक के हवाले कर दें ।
7. इस पुस्तिका में कुल 300 प्रश्न हैं, जिनमें निम्नलिखित भाग शामिल हैं :

Table with 4 columns: भाग, परीक्षण विषय, प्रश्नों की संख्या, पृष्ठ क्रमांक

- 8. कैलकुलेटर / पामटॉप / लैपटॉप / अन्य डिजिटल उपकरण / मोबाइल / सेल फोन / पेजर का उपयोग वर्जित है।
9. परीक्षा-भवन में अनुचित व्यवहार एवं कार्य के लिए दोषी पाये गये अभ्यर्थी युक्तिसंगत दंडनीय/वैधानिक कार्यवाही के पात्र होंगे ।
10. विभिन्न प्रश्नों के उत्तर देने की विधि इस पुस्तिका के पीछे छपे हुए निर्देशों में दे दी गई है, इसे आप प्रश्नों के उत्तर देने से पहले ध्यानपूर्वक पढ़ लें ।
11. कोई रफ कार्य उत्तर-पत्रिका पर नहीं करना है ।

Go through instructions given in Page No. 40 (Back Cover Page)

DO NOT OPEN THE SEAL OF THE BOOKLET UNTIL YOU ARE TOLD TO DO SO

QUESTION BOOK 10727240 SEAL SEAL 116/17

इस पुस्तिका की सील तब तक न खोले जब तक कहा न जाए



SECTION – A

i) General Awareness

1. Which of the following is not a national party of India ?
 (A) Trinamool Congress
 (B) NCP
 (C) SP
 (D) BSP
2. IKEA is a furniture retail company from _____ country, and it has opened its first branch in India at _____ in August, 2018.
 (A) USA, Mumbai
 (B) Sweden, Bengaluru
 (C) Sweden, Hyderabad
 (D) Norway, Hyderabad
3. Who among the following won the gold medal for India in the recently held World Weightlifting Championship ?
 (A) Sanjitha Chanu
 (B) Kavitha Devi
 (C) Mirabai Chanu
 (D) Punam Yadav
4. NASA recently launched Parker probe satellite, it will study the
 (A) Sun (B) Moon
 (C) Mars (D) Venus
5. Which of the following country does not share boundary with Syria ?
 (A) Lebanon (B) Jordan
 (C) Iraq (D) Iran
6. Consider the following statements and select the right one
 (A) Mahatma Gandhi was only once been the President of Congress Session.
 (B) He presided over as President in Belagavi (Belgaum) Session in 1922.
 (C) Both are correct
 (D) Both are wrong
7. Which of the following City lies on the bank of Periyar river in Kerala ?
 (A) Palakkad
 (B) Mahe
 (C) Kocchi
 (D) Tiruvananthapuram
8. Who among the following freedom fighter spread the India's independence movement in Paris ?
 (A) Anand Mohan Singh
 (B) Madam Bhikaiji Kama
 (C) Madanlal Dhingra
 (D) Shyam Krishna Verma
9. Arrange the following continents according to their size.
 (A) South America – Australia – Europe – Antarctica
 (B) South America – Australia – Antarctica – Europe
 (C) South America – Antarctica – Europe – Australia
 (D) South America – Antarctica – Australia – Europe
10. Who among the following is associated with the Young Bengal Movement ?
 (A) Annie Besant
 (B) Henry Derozio
 (C) Keshubchunder Sen
 (D) Swami Vivekananda
11. Present Union Information and Broadcasting Minister is
 (A) Prakash Javdekar
 (B) Arun Jeitley
 (C) Smrithi Irani
 (D) Suresh Prabhu

भाग - अ

i) सामान्य जानकारी

1. निम्नलिखित में से कौन-सा भारत का एक राष्ट्रीय दल नहीं है ?
(A) तृणमूल कांग्रेस
(B) NCP
(C) SP
(D) BSP
2. IKEA _____ देश की एक फर्नीचर खुदरा कंपनी है और इसने अपनी पहली शाखा भारत के _____ में अगस्त, 2018 में खोली ।
(A) USA, मुंबई
(B) स्वीडन, बेंगलुरु
(C) स्वीडन, हैदराबाद
(D) नॉर्वे, हैदराबाद
3. विश्व भारोत्तोलन चैंपियनशिप में हाल ही में भारत के लिए निम्नलिखित में से किसने स्वर्ण पदक प्राप्त किया ?
(A) संजीता चानू
(B) कविता देवी
(C) मीराबाई चानू
(D) पूनम यादव
4. NASA ने हाल ही में पार्कर अनुसंधान उपग्रह प्रक्षेपित किया है, यह _____ का अध्ययन करेगा ।
(A) सूर्य (B) चंद्रमा
(C) मंगल (D) शुक
5. निम्नलिखित में से किस देश की सीमा सीरिया से नहीं लगती ?
(A) लेबनॉन (B) जॉर्डन
(C) ईराक (D) ईरान
6. निम्नलिखित कथनों पर विचार कीजिए और सही चुनिए ।
(A) महात्मा गाँधी कांग्रेस अधिवेशन के अध्यक्ष केवल एक बार बने थे ।
(B) उन्होंने 1922 में बेलगाँव में अध्यक्ष के रूप में अध्यक्षता की ।
(C) दोनों सही हैं
(D) दोनों गलत हैं
7. निम्नलिखित में से कौन-सा नगर केरल में पेरियार नदी के किनारे स्थित है ?
(A) पलक्कड़
(B) माहे
(C) कोच्ची
(D) तिरुवनंतपुरम
8. निम्नलिखित में से किस स्वतंत्रता सेनानी ने भारत के स्वतंत्रता आंदोलन को पेरिस में फैला था ?
(A) आनंद मोहन सिंह
(B) मैडम भीखाजी कामा
(C) मदनलाल धींगरा
(D) श्याम कृष्ण वर्मा
9. निम्नलिखित महाद्वीपों को उनके आकार के अनुसार व्यवस्थित कीजिए ।
(A) दक्षिण अमेरिका - ऑस्ट्रेलिया - यूरोप - अंटार्कटिका
(B) दक्षिण अमेरिका - ऑस्ट्रेलिया - अंटार्कटिका - यूरोप
(C) दक्षिण अमेरिका - अंटार्कटिका - यूरोप - ऑस्ट्रेलिया
(D) दक्षिण अमेरिका - अंटार्कटिका - ऑस्ट्रेलिया - यूरोप
10. निम्नलिखित में से कौन यंग बंगाल आंदोलन से जुड़ा है ?
(A) ऐनी बेसेंट
(B) हेनरी डेरेजियो
(C) केशव चंद्रसेन
(D) स्वामी विवेकानंद
11. वर्तमान केंद्रीय सूचना और प्रसारण मंत्री हैं
(A) प्रकाश जावडेकर
(B) अरुण जेटली
(C) स्मृति ईरानी
(D) सुरेश प्रभु



12. The best selling book "Beyond the Line" is written by
 (A) Ramachandra Guha
 (B) M. Karunanidhi
 (C) Atal Bihari Vajapayee
 (D) Kuldip Nayar
13. Bakra–Nangal dam is built across
 (A) Ghagra river
 (B) Bhagirathi river
 (C) Gomathi river
 (D) Sutlej river
14. Philately is a study of
 (A) cryptic languages
 (B) postal history
 (C) old newspapers
 (D) old artefacts
15. International World Earth Day is observed on
 (A) March 22 (B) April 22
 (C) May 22 (D) June 22
16. Read the following statements and choose the right one.
 (A) India imports larger quantity of Natural Gas than Crude oil.
 (B) India imports larger quantity of Crude oil than Natural Gas.
 (C) India exports more petroleum products than its imports.
 (D) India's services exports is less than China's services exports.
17. Public debt of the Central and State Governments are managed by
 (A) SEBI
 (B) RBI
 (C) Union Finance Ministry
 (D) Controller and Auditor General of India (CAG)
18. Which of the following is /are true about Paris Agreement 2016 which is also referred as Climate Deal ?
 1. This held at 21st UNFCCC – Conference of Parties (CoP).
 2. India and China ratified this agreement.
 3. This came into force from 2017.
 Select the right code given below :
 (A) Only 1 (B) All the above
 (C) Only 3 (D) 1 and 2
19. Which of the following is/are social infrastructure components ?
 1. Investment in human capital
 2. PM Matritiva Vandana Yojana
 3. Skill India Programme
 4. Swacch Bharath Scheme
 Select the code given below :
 (A) None of the above
 (B) All the above
 (C) 2, 3 and 4
 (D) 1, 3 and 4
20. The upcoming 2019 general election to the Loksabha will be the
 (A) 15th one
 (B) 16th one
 (C) 17th one
 (D) None of the above

12. 'बियाँड़ द लाइन' नामक प्रसिद्ध पुस्तक _____ द्वारा लिखी गई है ।
 (A) रामचंद्र गुहा
 (B) एम. करुणानिधि
 (C) अटल बिहारी वाजपेयी
 (D) कुलदीप नायर
13. भाखड़ा - नांगल बांध _____ पर बना है ।
 (A) घागरा नदी
 (B) भागीरथी नदी
 (C) गोमती नदी
 (D) सतलुज नदी
14. फिलाटेली _____ का अध्ययन है ।
 (A) कूट बद्ध भाषाएँ
 (B) डाक इतिहास
 (C) पुराने समाचारपत्र
 (D) पुरानी शिल्पाकृतियाँ
15. अंतर्राष्ट्रीय विश्व पृथ्वी दिवस _____ को मनाया जाता है ।
 (A) मार्च 22
 (B) अप्रैल 22
 (C) मई 22
 (D) जून 22
16. निम्नलिखित कथनों को पढ़िए और सही को चुनिए ।
 (A) भारत कच्चे तेल से ज्यादा प्राकृतिक गैस की मात्रा आयात करता है ।
 (B) भारत प्राकृतिक गैस से ज्यादा कच्चे तेल की मात्रा आयात करता है ।
 (C) भारत इसके आयातों से अधिक पेट्रोलियम पदार्थों का निर्यात करता है ।
 (D) भारत का सेवा निर्यात चीन के सेवा निर्यात से कम है ।
17. केंद्र और राज्य सरकारों के सार्वजनिक ऋणों का प्रबंधन _____ द्वारा किया जाता है ।
 (A) SEBI
 (B) RBI
 (C) केंद्रीय वित्त मंत्रालय
 (D) भारत का नियंत्रक एवं महालेखा परीक्षक (CAG)
18. निम्नलिखित में से कौन-सा पेरिस करार 2016 जिसे जलवायु समझौता भी कहते हैं, के बारे में सत्य है ?
 1. यह 21 वाँ UNFCCC – दलों के सम्मेलन (CoP) में हुआ ।
 2. भारत और चीन ने इस करार का समर्थन किया ।
 3. यह 2017 से लागू हुआ ।
 नीचे दिए गए कूट में से सही चुनिए :
 (A) केवल 1 (B) उक्त सभी
 (C) केवल 3 (D) 1 और 2
19. निम्नलिखित में से कौन-से सामाजिक आधारभूत संरचना के तत्व हैं ?
 1. मानव पूँजी में निवेश
 2. प्रधानमंत्री मातृत्व वंदन योजना
 3. कौशल भारत कार्यक्रम
 4. स्वच्छ भारत योजना
 नीचे दिए गए कूट चुनिए :
 (A) उक्त में से कोई नहीं
 (B) उक्त सभी
 (C) 2, 3 और 4
 (D) 1, 3 और 4
20. लोक सभा के आनेवाले 2019 के आम चुनाव होंगे
 (A) 15वें
 (B) 16वें
 (C) 17वें
 (D) उक्त में से कोई नहीं



ii) Mental Ability and Reasoning Ability

21. **Statement :**

- I. People who are bald are generally of the intellectual type.
- II. Arun is bald.

Conclusion :

Arun is intellectual.

The conclusion drawn is

- (A) True
- (B) Probably true
- (C) False
- (D) Can't say

22. **Statement :**

Besides looks and appearances, it is also important to develop oneself from within.

Courses of action :

- I. One should not pay attention to fashion.
- II. One should pay attention to fashion.
- III. Books on self development should be encouraged.

Which of the following courses of action follows ?

- (A) Only II and III follow
- (B) Only II follows
- (C) Only I and III follow
- (D) Only I follows

23. **Statement :**

Unable to manage with the present salary. A joined another company.

Assumptions :

- I. The new company has better work environment.
- II. The present company offers higher pay package.
- III. The new company offers higher salary to all its employees.

Which of the assumptions are implicit ?

- (A) All are implicit
- (B) None are implicit
- (C) Only II is implicit
- (D) None of these

24. **Statement :**

Should there be only one university throughout India ?

Arguments :

- I. Yes, this is the only way to bring about uniformity in educational standards.
- II. No, this is administratively not feasible.

Choose the strong argument.

- (A) Only argument I is strong
- (B) Only argument II is strong
- (C) Either I or II is strong
- (D) Neither I nor II is strong

ii) मानसिक योग्यता तथा तार्किक योग्यता

21. कथन :

- I. जो लोग गंजे होते हैं, वे प्रायः बौद्धिक किस्म के होते हैं।
- II. अरुण गंजा है।

निष्कर्ष :

अरुण बौद्धिक है।

निकाला गया निष्कर्ष है

- (A) सत्य
- (B) संभवता सत्य
- (C) असत्य
- (D) कह नहीं सकते

22. कथन :

दिखावे और स्वरूप के अतिरिक्त यह महत्वपूर्ण है कि स्वयं को अंदर से विकसित किया जाए।

कार्रवाई :

- I. फैशन की ओर ध्यान नहीं देना चाहिए।
 - II. फैशन की ओर ध्यान देना चाहिए।
 - III. स्व-विकास पर पुस्तकों को बढ़ावा देना चाहिए।
- निम्नलिखित में से कौन-सी कार्रवाई अनुसरण करती है ?
- (A) केवल II और III अनुसरण करते हैं
 - (B) केवल II अनुसरण करता है
 - (C) केवल I और III अनुसरण करते हैं
 - (D) केवल I अनुसरण करता है

23. कथन :

वर्तमान वेतन में प्रबंधन न हो पाने के कारण A ने दूसरी कंपनी में कार्यग्रहण किया।

अवधारणाएँ :

- I. नई कंपनी में बेहतर कार्य वातावरण है।
- II. वर्तमान कंपनी उच्च वेतन पैकेज का प्रस्ताव देती है।
- III. नई कंपनी अपने सभी कर्मचारियों को उच्च वेतन पैकेज का प्रस्ताव देती है।

कौन-सी अवधारणा लागू होती है ?

- (A) सभी लागू होती हैं।
- (B) कोई लागू नहीं होती
- (C) केवल II लागू होती है
- (D) इनमें से कोई नहीं

24. कथन :

क्या पूरे भारत में एक ही विश्वविद्यालय होना चाहिए ?

तर्क :

- I. हाँ, शैक्षणिक मानकों में एकरूपता लाने का यही एक तरीका है।
 - II. नहीं, यह प्रशासनिक रूप से संभव नहीं है।
- मजबूत तर्क चुनिए।
- (A) केवल तर्क I मजबूत है
 - (B) केवल तर्क II मजबूत है
 - (C) या तो I या II मजबूत है
 - (D) न तो I न II मजबूत है

25. **Statements :**

- All buses are trains.
 All trains are rickshaws.
 All rickshaws are cycles.

Conclusions :

- I. All cycles are buses.
 II. All rickshaws are buses.
 III. All buses are rickshaws.
 IV. All trains are cycles.

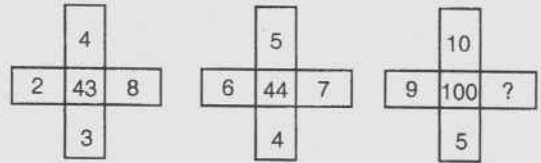
Choose the conclusion that follows the statement.

- (A) All follow
 (B) None follows
 (C) Only I and II follow
 (D) None of these
26. The paper below marked with numbers 1 – 6 is folded into a cube. Then which number will lie opposite to 5 ?



- (A) 2
 (B) 3
 (C) 4
 (D) 6
27. Age of Shyam is $\frac{1}{3}$ rd that of his mother. He is 2 years older than his sister. If the age of his sister is 8 year. What is the age of his mother ?
- (A) 25 years
 (B) 60 years
 (C) 48 years
 (D) 30 years

28. Find the missing number.



- (A) 8
 (B) 6
 (C) 12
 (D) 15
29. A, B, C, D, E and F are members of a club. There is one married couple in the group. D is the only married female in the group. A and C are two ladies. F is brother of A and is not married. E is the sister of F. How many female members are there in the club ?
- (A) 2
 (B) 3
 (C) 4
 (D) 5
30. In a row of children, Shibu is 5th from the left and Shinu is 6th from the right. When they exchange position, Shibu will be the 13th from the left. What will be Shinu's position from the right ?
- (A) 14th
 (B) 7th
 (C) 11th
 (D) 18th
31. If '-' stands for '+', '+' stands for '-' and 'x' stands for '÷' and '÷' stands for 'x'. Which of the following is not correct ?
- (A) $30 - 5 + 4 \div 10 \times 5 = 62$
 (B) $30 \times 5 - 4 \div 10 + 5 = 20$
 (C) $30 + 5 \div 4 - 10 \times 5 = 12$
 (D) $30 + 5 - 4 \div 10 \times 5 = 58$

25. कथन :

सभी बसें रेलगाड़ियाँ हैं ।
सभी रेलगाड़ियाँ रिक्शा हैं ।
सभी रिक्शा साईकिल हैं ।

निष्कर्ष :

- I. सभी साईकिल बसें हैं ।
- II. सभी रिक्शा बसें हैं ।
- III. सभी बसें रिक्शा हैं ।
- IV. सभी रेलगाड़ियाँ साईकिल हैं ।

वह निष्कर्ष चुनिए जो कथन का अनुसरण करता है ।

- (A) सभी करते हैं
- (B) कोई नहीं करता
- (C) केवल I और II करते हैं
- (D) इनमें से कोई नहीं

26. नीचे दिए हुए कागज को 1 – 6 अंकों से अंकित करके एक घन के रूप में मोड़ दिया गया है । 5 के विपरीत कौन-सा अंक होगा ?

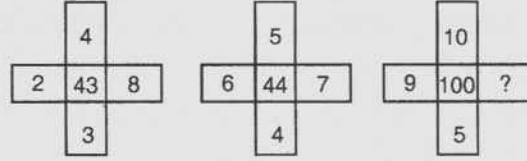


- (A) 2
- (B) 3
- (C) 4
- (D) 6

27. श्याम की आयु उसकी माँ की आयु का $\frac{1}{3}$ है । वह अपनी बहन से 2 वर्ष बड़ा है । यदि उसकी बहन की आयु 8 वर्ष है, उसकी माँ की आयु क्या है ?

- (A) 25 वर्षों
- (B) 60 वर्षों
- (C) 48 वर्षों
- (D) 30 वर्षों

28. लुप्त संख्या ज्ञात करें ।



- (A) 8
- (B) 6
- (C) 12
- (D) 15

29. A, B, C, D, E और F एक क्लब के सदस्य हैं । समूह में एक विवाहित युगल है । D समूह में अकेली विवाहित महिला है । A और C दो महिलाएँ हैं । F, A का भाई है और विवाहित नहीं है । E, F की बहन है । क्लब में कितनी महिला सदस्य हैं ?

- (A) 2
- (B) 3
- (C) 4
- (D) 5

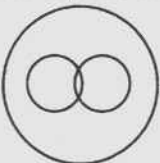



30. बच्चों की एक पंक्ति में, शिबू बाएँ से 5 वाँ और शीनू दाएँ से छठा है । जब वे अपने स्थान बदल लेते हैं, तो शिबू बाएँ से 13 वाँ हो जाता है । दाएँ से शीनू का स्थान क्या होगा ?

- (A) 14 वाँ
- (B) 7 वाँ
- (C) 11 वाँ
- (D) 18 वाँ

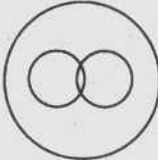



31. यदि '-' का अर्थ है '+', '+' का अर्थ '-' है और 'x' का अर्थ '÷' और '÷' का अर्थ 'x' है । निम्नलिखित में से कौन-सा सही नहीं है ?

- (A) $30 - 5 + 4 \div 10 \times 5 = 62$
- (B) $30 \times 5 - 4 \div 10 + 5 = 20$
- (C) $30 + 5 \div 4 - 10 \times 5 = 12$
- (D) $30 + 5 - 4 \div 10 \times 5 = 58$



32. If all the symbols are dropped from the following arrangement. Which of following will be the third to the left of the seventh letter/number from the right ?
 F 1 4 K B 5 9 # D R 2 # 7 M G
 % H V T 3 8 * 1 J A
 (A) G (B) R
 (C) D (D) M
33. Aruna ranks 12th in a class of 46. What will be her rank from the last ?
 (A) 33 (B) 34
 (C) 35 (D) 37
34. If the first and third letters in the word NECESSARY are interchanged, also 4th and 6th and 7th and 9th letters, which of the following would be 7th letter from the left ?
 (A) A (B) Y
 (C) R (D) E
35. Square, rhombus and four sided figure can be represented by
 (A) 
 (B) 
 (C) 
 (D) 
36. A and B are sisters. C is the brother of A. D is brother of E. E is the daughter of B. Who is aunt of D ?
 (A) E
 (B) C
 (C) A
 (D) B
37. If the letter 'PRABA' is coded as 27595 and THILAK as 368451, how can 'BHARATHI' be coded ?
 (A) 96575368
 (B) 57686535
 (C) 96854368
 (D) 37536689
38. Find the missing letters in cc -- dacc
 -- a.
 (A) ccdd
 (B) dcdd
 (C) cccd
 (D) cdcd
39. Find the missing number : 11, 101, 1001, 10001, ?
 (A) 100001
 (B) 1000001
 (C) 11001
 (D) 110011
40. Choose the odd one.
 (A) KP
 (B) MN
 (C) HR
 (D) GT



32. यदि निम्नलिखित व्यवस्था में से सभी संकेत हटा दिए जाएँ तो दाएँ से 7 वें अक्षर / संख्या के बाएँ से तीसरा कौन होगा ?
F 1 4 K B 5 9 # D R 2 # 7 M G
% H V T 3 8 * 1 J A
(A) G (B) R
(C) D (D) M
33. 46 की एक कक्षा में अरुणा का स्थान 12 वाँ है। अंत से उसका स्थान क्या होगा ?
(A) 33 (B) 34
(C) 35 (D) 37
34. यदि शब्द 'NECESSARY' में पहले और तीसरे अक्षर का स्थान आपस में बदल दिया जाए और चौथे और छठे और सात वें और नौ वें का भी स्थान आपस में बदल दिया जाए तो निम्नलिखित में से कौन-सा बाएँ से 7 वाँ अक्षर होगा ?
(A) A (B) Y
(C) R (D) E
35. वर्ग, समचतुर्भुज और चार भुजाओं वाली आकृति _____ द्वारा दर्शाई जा सकती है।
(A) 
(B) 
(C) 
(D) 
36. A और B बहनें हैं। C, A का भाई है। D, E का भाई है। E, B की पुत्री है। D की मौसी कौन है ?
(A) E
(B) C
(C) A
(D) B
37. यदि शब्द 'PRABA' का कूट 27595 है और THILAK का कूट 368451 है, तो 'BHARATHI' का कूट क्या होगा ?
(A) 96575368
(B) 57686535
(C) 96854368
(D) 37536689
38. cc -- dacc -- a में लुप्त अक्षर ज्ञात करें।
(A) ccdd
(B) dcdc
(C) cccd
(D) cdcd
39. लुप्त संख्या ज्ञात करें : 11, 101, 1001, 10001, ?
(A) 100001
(B) 1000001
(C) 11001
(D) 110011
40. सर्वथा भिन्न चुनिए।
(A) KP
(B) MN
(C) HR
(D) GT



iii) Numerical Aptitude and Data Interpretation

41. The sum of digits of a two digit number is 9. Also, nine times this number is twice the number obtained by reversing the order of the digits. The number is
 (A) 27 (B) 36
 (C) 18 (D) 45
42. A fraction becomes $\frac{9}{11}$, if 2 is added to both numerator and denominator of a fraction. If 3 is added to both numerator and denominator of the same fraction it becomes $\frac{5}{6}$, then the fraction is
 (A) $\frac{7}{9}$
 (B) $\frac{5}{9}$
 (C) $\frac{5}{6}$
 (D) none of these
43. Five years hence, the age of Mr. Roy will be 3 times that of his son. 5 years ago his age was 7 times that of his son. Present age of his son is
 (A) 9 yrs.
 (B) 10 yrs.
 (C) 12 yrs.
 (D) none of these
44. The radii of 2 circles are 8 cm and 6 cm respectively. Find the radius of the circle having area equal to the sum of the areas of the two circles.
 (A) 14 cm (B) 10 cm
 (C) 12 cm (D) 100 cm
45. The wheels of a car are of diameter 80 cm each. How many complete revolutions does each wheel make in 10 minutes when the car is travelling at a speed of 66 km per hour ?
 (A) 4,375 (B) 5,000
 (C) 4,000 (D) 4,800
46. If $a : b = 2 : 4$, $b : c = 3 : 5$, $c : d = 12 : 10$ then the ratio $a : d$ is
 (A) 9 : 23
 (B) 9 : 25
 (C) 2 : 10
 (D) none of these
47. If 8 diesel engines consume 12,000 litres of oil when each is running 10 hours per day, how much oil is required for 7 engines 5 of which are running 12 hours a day and the rest 6 hours a day ?
 (A) 10,500 lts.
 (B) 10,000 lts.
 (C) 9,000 lts.
 (D) none of these
48. A train running at the rate of 40 kmph passes a man riding a scooter on the road parallel to the railway line at 25 kmph in 48 seconds. Find the length of the train.
 (A) 100 m (B) 300 m
 (C) 200 m (D) 250 m
49. Two numbers are in the ratio 3 : 5. If 8 is added to each number, the ratio becomes 2 : 3. The numbers are
 (A) 24 and 40 (B) 30 and 50
 (C) 20 and 30 (D) 15 and 25



iii) संख्यात्मक कौशल और आंकड़े व्याख्यान

41. दो अंकों की संख्या के अंकों का योग 9 है। साथ ही इस संख्या का नौ गुणा अंकों का क्रम बदलने के बाद प्राप्त संख्या का दोगुना है। संख्या है
(A) 27 (B) 36
(C) 18 (D) 45
42. एक भिन्न के अंश और हर दानों में 2 जोड़ने पर वह भिन्न $\frac{9}{11}$ हो जाती है। यदि उसी भिन्न के अंश और हर दोनों में 3 जोड़ा जाए तो वह $\frac{5}{6}$ हो जाती है, तो भिन्न है
(A) $\frac{7}{9}$
(B) $\frac{5}{9}$
(C) $\frac{5}{6}$
(D) इनमें से कोई नहीं
43. पाँच वर्ष बाद श्री राँय अपने बेटे की आयु के तीन गुणा हो जाएँगे। 5 वर्ष पूर्व उनकी आयु बेटे की आयु का 7 गुणा थी। बेटे की वर्तमान आयु है
(A) 9 वर्ष
(B) 10 वर्ष
(C) 12 वर्ष
(D) इनमें से कोई नहीं
44. 2 वृत्तों की त्रिज्याएँ क्रमशः 8 cm और 6 cm है। उस वृत्त की त्रिज्या ज्ञात कीजिए जिसका क्षेत्रफल इन दोनों वृत्तों के क्षेत्रफल के योग से बराबर होगा।
(A) 14 cm (B) 10 cm
(C) 12 cm (D) 100 cm
45. एक कार के पहियों का व्यास 80 cm प्रत्येक है। जब कार 66 km प्रति घंटा की गति से चल रही है, तो प्रत्येक पहिया 10 मिनट में कितने घूर्णन करेगा ?
(A) 4,375 (B) 5,000
(C) 4,000 (D) 4,800
46. यदि $a : b = 2 : 4$, $b : c = 3 : 5$, $c : d = 12 : 10$ तो $a : d$ का अनुपात है
(A) 9 : 23
(B) 9 : 25
(C) 2 : 10
(D) इनमें से कोई नहीं
47. यदि 8 डीजल इंजन 10 घंटे प्रति दिन चलने पर 12,000 लीटर तेल की खपत करते हैं, तो 7 इंजनों के लिए कितने तेल की आवश्यकता है यदि उनमें से 5, 12 घंटे प्रति दिन और बाकी 6 घंटे प्रति दिन चल रहे हैं ?
(A) 10,500 लीटर
(B) 10,000 लीटर
(C) 9,000 लीटर
(D) इनमें से कोई नहीं
48. 40 km प्रति घंटा की दर से दौड़ती हुई एक रेलगाड़ी रेलवे लाइन के समानांतर सड़क पर 25 km प्रति घंटा स्कूटर से जा रहे व्यक्ति को 48 सेकंड में पार कर लेती है। रेलगाड़ी की लंबाई ज्ञात करें।
(A) 100 m (B) 300 m
(C) 200 m (D) 250 m
49. दो संख्याएँ 3 : 5 के अनुपात में हैं। यदि प्रत्येक संख्या में 8 जोड़ दिया जाता है, तो अनुपात 2 : 3 हो जाता है। वह संख्याएँ हैं
(A) 24 और 40 (B) 30 और 50
(C) 20 और 30 (D) 15 और 25



50. A student has an amount of Rs. 7,000, in the denominations of Rs. 500 and Rs. 100. How many Rs. 500 notes does he have, if he has a total of 22 notes ?
 (A) 10 (B) 11
 (C) 12 (D) 16
51. If the amounts of two consecutive years on a sum of money calculated on compound interest basis are in the ratio 20 : 21, then the rate of interest is
 (A) 10% (B) 12%
 (C) 5% (D) 7.5%
52. In a hostel of 80 students, the total monthly expenses were increased by Rs. 8,000, when 20 more join the hostel. If the average monthly expenses thereby reduced by Rs. 40 per head, find the average monthly expenses per student.
 (A) Rs. 500 (B) Rs. 600
 (C) Rs. 400 (D) None of these
53. Mr. Jain goes to market to buy a fruit. If he can bargain and reduce the price of a dozen of the fruit by Rs. 3 he can buy 3 dozens of that fruit instead of 2 dozens. How much did Jain pay to buy 3 dozens ?
 (A) Rs. 6 (B) Rs. 12
 (C) Rs. 18 (D) Rs. 24
54. If $x^{\frac{1}{a}} = y^{\frac{1}{b}} = z^{\frac{1}{c}}$ and $xyz = 1$ then $a + b + c =$
 (A) 3 (B) 2
 (C) 1 (D) 0
55. In a class of 30 students, 15 students have taken Computer Science and 10 students have taken Computer Science but not Electronics. Find the number of students who have taken Electronics but not Computer Science.
 (A) 15 (B) 20
 (C) 10 (D) none of these
56. If 2 men and 3 boys can earn Rs. 252 in 7 days and 4 men with 7 boys can earn Rs. 624 in 8 days. In what time 6 men with 8 boys earn Rs. 1,020 ?
 (A) 9 days
 (B) 12 days
 (C) 10 days
 (D) none of these
57. If $2^{4x+5} = (\sqrt{2})^{x+2}$ then $x =$
 (A) 0 (B) $-\frac{8}{7}$
 (C) $\frac{8}{7}$ (D) $\frac{7}{8}$
58. If a certain sum of money is doubled in 8 years at a given simple interest. In how many years will it be four times ?
 (A) 24 years
 (B) 32 years
 (C) 20 years
 (D) none of these
59. If the interest on Rs. 800 be more than the interest on Rs. 400 by Rs. 40 in 2 years. Find the rate of simple interest.
 (A) 5% (B) 6%
 (C) 10% (D) 8%
60. A man buys an article at $\frac{3}{4}$ of its cost value and sells it for 20% more than its cost value. What is the profit percentage ?
 (A) 50%
 (B) 70%
 (C) 60%
 (D) none of these

50. एक विद्यार्थी के पास रु. 500 और रु. 100 के नोटों में रु. 7,000 की राशि है। अगर उसके पास कुल नोट 22 हैं, तो उसके पास रु. 500 के कितने नोट हैं ?
 (A) 10 (B) 11
 (C) 12 (D) 16
51. यदि एक राशि पर चक्रवृद्धि ब्याज के आधार पर गणना की गई दो क्रमिक वर्षों की राशि 20 : 21 के अनुपात में है, तो ब्याज दर है
 (A) 10% (B) 12%
 (C) 5% (D) 7.5%
52. 80 विद्यार्थियों के वसतिगृह में जब 20 अधिक जुड़ जाते हैं, तो कुल मासिक खर्च रु. 8,000 से बढ़ जाता है। यदि इसलिए मासिक खर्च प्रति शीर्ष रु. 40 द्वारा घटाया जाता है, तो प्रति विद्यार्थी औसत मासिक खर्च ज्ञात कीजिए।
 (A) रु. 500 (B) रु. 600
 (C) रु. 400 (D) इनमें से कोई नहीं
53. श्री जैन एक फल खरीदने के लिए बाजार जाते हैं। यदि मोलभाव करके वे एक दर्जन फलों का मूल्य रु. 3 तक कम कराने के बाद वे 2 दर्जन की बजाय 3 दर्जन फल खरीद पाते हैं, तो 3 दर्जन के लिए उन्होंने कितना मूल्य चुकाया ?
 (A) रु. 6 (B) रु. 12
 (C) रु. 18 (D) रु. 24
54. यदि $x^{\frac{1}{a}} = y^{\frac{1}{b}} = z^{\frac{1}{c}}$ और $xyz = 1$ तो $a + b + c =$
 (A) 3 (B) 2
 (C) 1 (D) 0
55. 30 विद्यार्थियों की एक कक्षा में 15 विद्यार्थियों ने कंप्यूटर साइंस लिया है और 10 विद्यार्थियों ने कंप्यूटर साइंस लिया है परंतु इलेक्ट्रॉनिक्स नहीं। उन विद्यार्थियों की संख्या ज्ञात करें जिन्होंने इलेक्ट्रॉनिक्स लिया है परंतु कंप्यूटर साइंस नहीं।
 (A) 15 (B) 20
 (C) 10 (D) इनमें से कोई नहीं
56. यदि 2 आदमी और 3 लड़के 7 दिनों में रु. 252 कमा सकते हैं और 4 आदमी और 7 लड़के 8 दिनों में रु. 624 कमा सकते हैं, तो कितने समय में 6 आदमी और 8 लड़के रु. 1,020 कमाएँगे ?
 (A) 9 दिन
 (B) 12 दिन
 (C) 10 दिन
 (D) इनमें से कोई नहीं
57. यदि $2^{4x+5} = (\sqrt{2})^{x+2}$ तो $x =$
 (A) 0 (B) $-\frac{8}{7}$
 (C) $\frac{8}{7}$ (D) $\frac{7}{8}$
58. यदि एक राशि 8 वर्षों में साधारण ब्याज पर दोगुनी हो जाती है। तो यह कितने वर्षों में चार गुणा हो जाएगी ?
 (A) 24 वर्षों
 (B) 32 वर्षों
 (C) 20 वर्षों
 (D) इनमें से कोई नहीं
59. यदि 2 वर्षों में रु. 400 पर ब्याज रु. 800 पर ब्याज से रु. 40 अधिक है, तो साधारण ब्याज की दर ज्ञात कीजिए।
 (A) 5% (B) 6%
 (C) 10% (D) 8%
60. एक व्यक्ति एक वस्तु इसके क्रय मूल्य से $\frac{3}{4}$ पर खरीदता है और इसके क्रय मूल्य से 20% अधिक पर बेचता है, तो लाभ प्रतिशत क्या है ?
 (A) 50%
 (B) 70%
 (C) 60%
 (D) इनमें से कोई नहीं



iv) Hindi Language and Comprehension

हिन्दी भाषा और बोध

61. 'वीर' शब्द का पर्यायवाची शब्द क्या है ?
 (A) सूरमा (B) विजय
 (C) विराग (D) विरस
62. 'विहित' शब्द का विलोम शब्द है
 (A) हित (B) बिना
 (C) निषेध (D) सहित
63. 'चक्र' शब्द का तद्भव रूप है
 (A) चक (B) चाक
 (C) चकर (D) चकरी
64. 'दाँत' शब्द कौनसे लिंग में प्रयोग होता है ?
 (A) स्त्रीलिंग
 (B) नपुंसकलिंग
 (C) पुल्लिंग
 (D) स्त्रीलिंग और पुल्लिंग दोनों
65. आ + छत्र का संधि रूप है
 (A) आछत्र (B) आच्छत्र
 (C) आत्छत्र (D) आन्छत्र
66. नमः + कार का संधि रूप है
 (A) नमस्कार (B) नमश्कार
 (C) नमःकार (D) नमष्कार
67. 'माली' शब्द का स्त्रीलिंग रूप है
 (A) मालकिन (B) मालिका
 (C) मालिन (D) माली
68. 'दुअत्री' का हिन्दी व्याकरणरीत्या संधि विभाग है
 (A) दु + अत्री (B) दो + अत्री
 (C) दो + आना (D) दु + आना
69. चिड़ीमार का विग्रहवाक्य है
 (A) चिड़ी मारना
 (B) चिड़ियों को मारनेवाला
 (C) चिड़-चिड़ करना
 (D) इनमें से कोई नहीं
70. 'मेहमान आए होंगे' यह वाक्य _____ काल का है।
 (A) भूतकाल (B) वर्तमान काल
 (C) भविष्यत् काल (D) कोई नहीं
71. 'नारी' शब्द का बहुवचन रूप है
 (A) नारियाँ (B) नारी
 (C) नारियल (D) नारीं
72. जनता शब्द का बहुवचन है
 (A) जन (B) जनताओं
 (C) जनताएँ (D) कोई नहीं
73. 'घुटने टेकना' इस मुहावरे का अर्थ है
 (A) हार मानना
 (B) व्यायाम करना
 (C) घुटनों पर चलना
 (D) छिपना
74. इनमें से कौनसा शब्द 'शेर' शब्द के समानार्थक नहीं ?
 (A) व्याघ्र (B) केसरी
 (C) मघवा (D) सिंह
75. 'जो सोयेगा सो कुछ भी न पायेगा' इस वाक्य में सर्वनाम है
 (A) केवल जो
 (B) केवल सो
 (C) न पाना
 (D) जो और सो दोनों



76. 'उस नदी का बहाव बहुत तेज़ है।' इस वाक्य में संज्ञा है

- (A) बहाव (B) उस
(C) बहुत (D) कोई नहीं

77-80:

77. जोड़कर लिखिए :

'अ'

'आ'

- a. कान काटना 1. असर होना
b. नाक रगड़ना 2. बहुत चालाक होना
c. रंग में भंग पड़ना 3. गिड़गिड़ाकर क्षमा माँगना
d. हवा लगना 4. आनंद में बाधा पड़ना

a b c d

- (A) 2 1 4 3
(B) 2 3 1 4
(C) 3 2 4 1
(D) 2 3 4 1

78. अर्थ जोड़कर लिखिए :

'अ'

'आ'

- a. मछली 1. पवन
b. राजीव 2. अलि
c. वायु 3. झख
d. मधुप 4. कमल

a b c d

- (A) 4 3 1 2
(B) 3 4 1 2
(C) 3 4 2 1
(D) 3 2 1 4

79. जोड़कर लिखिए :

'अ'

'आ'

- a. सवर्णदीर्घ संधि 1. पित्राज्ञा
b. वृद्धि संधि 2. भूर्जित
c. गुण संधि 3. सदैव
d. यण् संधि 4. महोत्सव

a b c d

- (A) 2 3 4 1
(B) 2 3 1 4
(C) 2 4 3 1
(D) 2 1 4 3

80. जोड़कर लिखिए :

'अ'

'आ'

- a. अव्ययीभाव समास 1. अकालमृत्यु
b. तत्पुरुष समास 2. थोड़ा-बहुत
c. द्विगु समास 3. भरपेट
d. कर्मधारय समास 4. नकटा
e. द्वन्द्व समास 5. त्रिलोक

a b c d e

- (A) 1 2 3 4 5
(B) 3 4 1 5 2
(C) 3 1 5 4 2
(D) 3 4 5 1 2



v) English Language and Comprehension

अंग्रेजी भाषा और बोध

Fill in the blanks with suitable article.

81. Revenge is _____ main theme of this play.

- (A) a
- (B) an
- (C) the
- (D) not needed

82. _____ bird in the hand is worth two in the bush.

- (A) A
- (B) An
- (C) The
- (D) Not needed

Use correct preposition to fill in the blanks.

83. Be mindful _____ your promise to me.

- (A) with
- (B) at
- (C) for
- (D) of

84. I am not conversant _____ Greek.

- (A) to
- (B) with
- (C) for
- (D) from

85. The business of the Judge is distinct _____ that of the jury.

- (A) at
- (B) for
- (C) by
- (D) from

Use correct verb from the options.

86. Either Ram or his friends _____ football.

- (A) play
- (B) plays
- (C) has played
- (D) none of the above

87. When the ship arrived in the port, the crew _____ taken into custody.

- (A) was
- (B) is
- (C) were
- (D) are

88. The wages of sin _____ death.

- (A) are
- (B) were
- (C) is
- (D) was

Fill in the blanks with proper verb from the options.

89. An ancient statue _____ there half buried in the sand.

- (A) lay
- (B) lie
- (C) lied
- (D) laid

90. He was clean _____

- (A) Shaved
- (B) Shave
- (C) Shaven
- (D) None of the above



91. The tree was _____ with fruits.
(A) laden
(B) laden
(C) loaded
(D) laid

Select the sentence which is grammatically wrong.

92. (A) Someone has picked my pocket.
(B) He asked me to take off my trouser.
(C) He bet and lost a lot of money at the races.
(D) He was badly wounded and bleed profusely.
93. (A) Many a fool think he can have rights without responsibilities.
(B) Scientists are trying to probe the outermost reaches of space.
(C) It is a matter of the utmost importance.
(D) Let us walk a little farther.
94. (A) He is the elder of the two brothers.
(B) He is elder than his sister.
(C) I gave him the few spare clothes I had.
(D) I have a few friends in the United States.

Use correct question tag for the following.

95. They provide free medical facility _____
(A) aren't they ?
(B) do they ?
(C) don't they ?
(D) doesn't they ?

96. He spoke to the boys _____
(A) doesn't he ?
(B) didn't he ?
(C) did he ?
(D) does he ?

Change the following sentences to imperative sentence.

97. 'Will you stop talking ?'
(A) Can you stop talking
(B) Please stop talky will you ?
(C) Stop talking
(D) Would you please stop talky ?
98. 'Will you tell him to come here ?'
(A) Will you please tell him to come here
(B) Would you please tell him to come here
(C) Can you tell him to come here
(D) Tell him to come here

Select the wrongly spelt word.

99. (A) Persistence
(B) Tepid
(C) Appetiser
(D) Fawn
100. (A) Cosmopolitan
(B) Eschewed
(C) Hypotheses
(D) Allegiance



SECTION - B

भाग - ब

Post Specific Subject-Related Questions

पोस्ट स्पेसिफिक विषय-संबंधी प्रश्न

101. इन्द्रस्य न वीर्याणि प्र वोचं यानि _____ प्रथमानि वज्री ।
 (A) चकार (B) नकार
 (C) शयत (D) विवित्से
102. इमा रुद्राय तवसे _____ क्षयद्वीराय प्र भरामहे मतीः ।
 (A) शङ्कराय (B) लिङ्गिने
 (C) कपर्दिने (D) बाहवे
103. मा नो वधीः पितरं मोत _____ मा नः प्रियास्तन्वो रुद्र रीरिषः ।
 (A) मातरं (B) भ्रातरं
 (C) सुतान् (D) प्रजान्
104. इन्द्रो यातोऽवसितस्य राजा शमस्य च शृङ्गिणो _____ ।
 (A) वीरबाहुः (B) वज्रबाहुः
 (C) मोदबाहुः (D) बाहुः
105. वीरान् मा नो _____ भामितो वधीर्हविष्मन्तः सदमित्वा हवामहे ।
 (A) शम्भु (B) शङ्कर
 (C) कपर्दिन् (D) रुद्र
106. त्वाम्मे समिधानं यविष्ठ्य देवा दूतं चक्रिरे _____ ।
 (A) वायुवाहनम् (B) अश्ववाहनम्
 (C) हस्तिवाहनम् (D) हव्यवाहनम्
107. त्वामग्न इति सप्तर्चस्यास्य सूक्तस्यात्रेय इष ऋषिः _____ देवता । जगती छन्दः ।
 (A) रुद्रो (B) वायुः
 (C) अग्निः (D) सविता
108. स घा नो देवः _____ सहावाऽऽसाविषद् वसुपतिर्वसूनि ।
 (A) रुद्रः (B) विष्णुः
 (C) सविता (D) अग्निः
109. चित्रं वयो बृहदस्मे दधातु यूयं पात _____ सदा नः ।
 (A) स्वस्तिभिः (B) मन्त्रैः
 (C) श्लोकैः (D) वाक्यैः
110. सक्तुमिव तितउना पुनन्तो यत्र धीरा _____ वाचमक्रत ।
 (A) शब्देन (B) मनसा
 (C) पदेन (D) देहेन
111. सहर्षशीर्षेति षोडशर्चस्य सूक्तस्य नारायण ऋषिः । _____ देवता ।
 (A) पुरुषो (B) प्रजापति
 (C) रुद्रो (D) अग्निः
112. वसन्तो अस्यासीदाज्यं ग्रीष्म _____ शरद्विः ।
 (A) समित् (B) हविस्
 (C) इध्मः (D) पायसम्



113. _____ तदस्य यद्वैश्यः पद्भ्यां शूद्रो अजायत ।
(A) पादः (B) शिरः
(C) हस्तः (D) ऊरू
114. _____ यज्ञमयजन्त देवाः ।
(A) पाकेन (B) मन्त्रैः
(C) यज्ञेन (D) हविषा
115. नासदासीन्नो सदासीत् तदानीं नासीद्रजो नो
_____ परो यत् ।
(A) आकाश (B) भूमिः
(C) व्योमा (D) जलं
116. _____ वै वरं वृणुते भद्रं युञ्जन्ति दक्षिणम् ।
(A) भद्रं (B) शुभं
(C) अशुभं (D) स्वर्गं
117. _____ । ग्मा । ज्मा । क्षमा । इति पृथिव्याः
नामानि ॥
(A) व्योम (B) अम्बरं
(C) गौ (D) नाकः
118. _____ समाप्नातः । स व्याख्यातव्यः ।
(A) समाप्नायः (B) निगमाः
(C) निघण्टवः (D) संवादाः
119. _____ वरयितव्यो भवति ।
(A) वरेण (B) वरो
(C) वरं (D) वरस्य
120. यथार्थं _____ सन्नमयेत् ।
(A) धातुं (B) पदं
(C) विभक्तीः (D) शब्दं
121. एकः शब्दः _____ सम्यग्ज्ञातः स्वर्गे लोके च
कामधुग्भवति ।
(A) विप्रयुक्तः (B) सुप्रयुक्तः
(C) युक्तः (D) अयुक्तः
122. नरत्वं दुर्लभं लोके _____ तत्र सुदुर्लभा ।
(A) वित्तं (B) विद्या
(C) ज्ञानं (D) यशः
123. यत्तु ध्वनिकारेणोक्तम्-काव्यस्यात्मा _____
इति ।
(A) रीतिः (B) जीवः
(C) ध्वनिः (D) शब्दः
124. धर्मार्थकाममोक्षेषु वैचक्षण्यं कलासु च । करोति
कीर्तिं _____ च साधुकाव्यनिषेवणम् ।
(A) प्रीतिं (B) द्वेषं
(C) भक्तिं (D) वात्सल्यं
125. वाक्यं _____ कव्यम् ।
(A) विमर्शात्मकं (B) पदात्मकं
(C) शब्दात्मकं (D) रसात्मकं
126. अर्थो वाच्यश्च _____ व्यङ्ग्यश्चेति त्रिधा मतः ।
(A) लक्ष्यश्च (B) बोध्यश्च
(C) युक्त्यश्च (D) वर्ण्यश्च
127. सङ्केतौ गृह्यते जातौ _____ द्रव्य क्रियासु च ।
(A) मन (B) रूप
(C) गुण (D) द्रव



128. केचित्तु "कर्मणि _____" इति रूढावुदाहरन्ति ।
 (A) कृपण (B) निपुणः
 (C) कुशलः (D) मन्दः
129. _____ स्यान्निगीर्णस्य मता साध्यवसानिका ।
 (A) सारोपा (B) उपमा
 (C) उत्प्रेक्षा (D) विषया
130. सारोपा एव _____ अलङ्कारस्य बीजम् ।
 (A) अर्थान्तरन्यास (B) उत्प्रेक्षा
 (C) उपमा (D) रूपक
131. विभावेनानुभावेन व्यक्तः सञ्चरिणा यथा। रसतामेति रत्यादिः _____ सचेतासाम्॥
 (A) स्थायीभावः (B) स्थिरीभावः
 (C) चलभावः (D) रसभावः
132. चिन्मयः इति स्वरूपार्थे _____ ।
 (A) मतुप् (B) लप्
 (C) क्त्वा (D) मयट्
133. स्वज्ञानेनान्यधीहेतुः सिद्धेऽर्थे _____ मतः ।
 (A) ध्वनिः (B) रीतिः
 (C) लक्षणा (D) व्यञ्जको
134. परस्य न परस्येति ममेति न _____ इति च। तदास्वादे विभावादेः परिच्छेदो न विद्यते।
 (A) मम (B) तव
 (C) तस्य (D) अस्य
135. शिक्षाभ्यासादिमात्रेण राघवादेः स्वरूपताम्। दर्शयन् _____ नैव रसस्यास्वादको भवेत्।
 (A) रूपकः (B) गायकः
 (C) नर्तको (D) सङ्गीतकः
136. कवेः प्रौढोक्तिसिद्धो वा तन्निबद्धस्य वेति _____ । षड्भिस्तैर्व्यज्यमानस्तु वस्त्वालङ्काररूपकः।
 (A) दश (B) षट्
 (C) सप्त (D) अष्ट
137. दृश्यश्रव्यत्वभेदेन पुनः काव्यं _____ मतम्।
 (A) एक (B) त्रिधा
 (C) चतुर् (D) द्विधा
138. _____ अथ प्रकरणं भाणव्यायोगसम - वकारडिमाः। ईहामृगाङ्कवीथ्यः प्रहसनमिति रूपकाणि दश ।
 (A) रूपकं (B) नृत्यं
 (C) नाटकं (D) नाट्यं
139. नाटकं ख्यातवृत्तं स्यात् _____ सन्धिसमन्वितम्।
 (A) दश (B) अष्ट
 (C) नव (D) पञ्च
140. यन्नाट्यवस्तुनः पूर्वं रङ्ग रङ्गविघ्नोपशानत्ये। कुशीलवाः प्रकुर्वन्ति _____ स उच्यते।
 (A) पूर्वरङ्गः (B) उत्तररङ्गः
 (C) अधोरङ्गः (D) दक्षिणरङ्गः

141. _____ सिताच्छत्रितकीर्तिमण्डलः स
राशिरासीन्महसां महोज्ज्वलः।
(A) रामः (B) भीमः
(C) नलः (D) कार्कोटकः
142. प्रदक्षिणीकृत्य जयाय सृष्टया रराज नीराजनया स
_____।
(A) राजा (B) राजघः
(C) सुराजः (D) कुराजः
143. सखा _____ ऋतुर्यथा वपुस्तथालिङ्गदथास्य
यौवनम्।
(A) रतीशस्य (B) सतीशस्य
(C) नरेशस्य (D) दिनेशस्य
144. द्विधा नृपे तत्र जगत्त्रयीभुवां नतभ्रवं _____
विभ्रमोऽभवत् ।
(A) मन्मथ (B) रतीश
(C) काम (D) मीनकेतनः
145. तमेव लब्ध्वासरं ततः स्मरः। अत्र स्मरः नाम
_____।
(A) कृष्णः (B) भैमी
(C) नलः (D) कामः
146. नवाः _____ गन्धवहेन चुम्बिता कर्म्बिताङ्गी
मकरन्दशीकरैः।
(A) वल्ली (B) लता
(C) प्रसून (D) काण्डः
147. _____ रोपारुणचक्षुषा महुः कुहूरुताहृत
चन्द्रवैरिणी।
(A) काकेन (B) कपोतेन
(C) गरुडेन (D) पिकेन
148. निलीय तस्मिन्निव सन्नपांनिधिर्वने _____
ददृशेऽवनीभुजा।
(A) सरः (B) तडाको
(C) नदी (D) हृदः
149. स तत्र चित्रं विचरन्तमन्तिके हिरण्मयं _____
अबोधि नैषधः।
(A) हंसं (B) पिकं
(C) काकं (D) मीनं
150. अथावलम्ब्य क्षणमेकपादिकां तदा निद्रावुपपल्लवं
खगः। अत्र खगः नाम _____।
(A) मूषकः (B) शुकः
(C) गौः (D) हंसः
151. पातु वो _____ कण्ठः श्यामाम्बुदोपमः।
(A) शिवस्य (B) ईश्वरस्य
(C) नीलकण्ठस्य (D) रुद्रस्य
152. अवन्तिपुर्यां द्विजसार्थवाहो युवा दरिद्रः किल
_____।
(A) रुद्रदत्तः (B) गणदत्तः
(C) चारुदत्तः (D) देवदत्तः



153. लिम्पतीव तमोऽङ्गानि वर्षतीवाञ्जन
_____।
(A) नभः (B) सरः
(C) मारुतः (D) हृदः
154. मृच्छकटिके प्रकरण ग्रन्थे वसन्तसेना _____
इति ख्याता।
(A) व्यापरी (B) वर्तकी
(C) गणिका (D) नटी
155. _____ हि नाम पुरुषस्य अर्षिहासन
राज्यम्।
(A) वित्तं (B) द्यूतं
(C) क्रीडा (D) वाक्
156. मार्गो ह्येष नरेन्द्रसौप्तिकवधे पूर्वं कृतो द्रौणिना।
अत्र द्रौणिः नाम _____।
(A) शिवः (B) भीमः
(C) अर्जुनः (D) अश्वत्थामा
157. वसन्तसेना प्राप्ता। तत् स्वागतं _____ इदमासानम्
अत्रोपविश्यताम्।
(A) भवतः (B) भवान्
(C) भवत्यै (D) भवताम्
158. वणिज इव भान्ति तरवः पण्यानि स्थितानि
_____।
(A) वस्त्राणि (B) कुसुमानि
(C) नगराणि (D) जलानि
159. परभृत इव नीडे रक्षितो वायसीभिः । अत्र परभृतः
नाम _____।
(A) पशुः (B) कोकिलः
(C) मार्जालः (D) अश्वः
160. अथ इदानीं वसन्तसेना क्व _____।
(A) गतः (B) गतम्
(C) गन्तुम् (D) गता
161. वेदोक्तः परमो धर्मः स्मृतिशास्त्रगतोऽपरः शिष्टाचीर्णः
परः प्रोक्तस्त्रयो धर्माः _____।
(A) पुरातनाः (B) नूतनाः
(C) सनातनाः (D) प्राचीनाः
162. वेदमनूच्याचार्यो _____ अनुशास्ति। सत्यं वद।
धर्मं चर।
(A) अन्तेवासिनं (B) मित्रं
(C) शिष्यं (D) राजानं
163. तस्मादेतत्त्रयं शिक्षेद् दमं _____ दयामिति।
(A) दानं (B) कर्म
(C) ज्ञानं (D) वित्तं
164. _____ हीनं न पुनन्ति वेदाः।
(A) विचार (B) आचार
(C) दुराचार (D) गोचर
165. धर्मार्थाविरोधेन _____ सेवेत। न निःसुखः स्यात्।
(A) भूमिं (B) धनं
(C) स्वर्गं (D) कामं



166. सर्वेषां सत्यमक्रोधो दानं _____ प्रजननं च।
(A) अहिंसा (B) हिंसा
(C) भीतिः (D) क्रोधः
167. अहिंसा सत्यमस्तेयं शौचमिन्द्रियनिग्रहः। दमः
क्षमार्जवं दानं सर्वेषां _____ साधनम्।
(A) कर्म (B) गुण
(C) आरोग्य (D) धर्म
168. उत्तरं यत्समुद्रस्य हिमाद्रेश्चैव दक्षिणम्। वर्षं तत्
_____ नाम भारती यत्र सन्ततिः।
(A) भारतं (B) कोसलं
(C) सेतुः (D) पुरुषं
169. _____ भूमिरियं स्वर्गमपवर्गं च गच्छताम्।
(विष्णुपुराणम्)
(A) धर्म (B) भोग
(C) कर्म (D) प्रकृति
170. ब्रह्मा _____ पदवीः कवीनामृषिर्विप्राणां महिषो
मृगाणाम्। (ऋग्वेद)
(A) वसूनां (B) दैत्यानां
(C) देवानां (D) असुराणां
171. ब्रह्म वै ब्राह्मणः क्षत्रं _____। (तैत्तिरीय ब्रह्मणम्)
(A) वैश्याः (B) शूद्राः
(C) राजन्यः (D) गन्धर्वाः
172. _____ सर्ववर्णानां सामान्यो धर्म उच्यते।
(वृद्धहारीत)
(A) व्यापारस्तु (B) कृषिस्तु
(C) पौरोहित्यस्तु (D) ज्योतिषस्तु
173. मधुमांससुरसोमं लाक्षां लवणमेव च। एतेषां
विक्रयेणैव _____ चान्द्रायणं चरेत्।
(A) द्विजश्च (B) मूर्खश्च
(C) नारी च (D) वृद्धश्च
174. _____ नाम दधाति पिता मातेति।
(A) पशूनां (B) पक्षीणां
(C) पुत्रस्य (D) अश्वस्य
175. आयुधीयप्रायः श्रेणीप्रायो वा मे _____।
(अर्थशास्त्रम्)
(A) नगरम् (B) जनपदः
(C) पुरम् (D) दुर्गा
176. अन्योप्यथ न विक्रेयो मनुष्यः किम् पुनः प्रजाः।
अधर्ममूलैर्हि _____ तेन धर्मोऽथ वक्ष्यते।
(अनुशासनपर्व)
(A) धनैः (B) कार्येण
(C) कर्मणा (D) वाचा
177. एवं हि स्मरन्ति। धर्मैकार्थं च कामे च _____ इति।
(A) अतिचरितव्या (B) चरितव्या
(C) नातिचरितव्या (D) मतिचरितव्या



178. नास्ति वेदात्परं शास्त्रं नास्ति _____ परो गुरुः ।
 (A) सुतायाः (B) पुत्रात्
 (C) मित्रात् (D) मातुः
179. शरीरार्धं स्मृता _____ पुण्यापुण्येफले समा ।
 (A) जाया (B) कन्या
 (C) मित्रं (D) पुत्रः
180. अवध्या _____ इत्याहुर्धर्मज्ञाः धर्मनिश्चये ।
 (आदिपर्व)
 (A) मूषकः (B) दैत्यः
 (C) तरुः (D) स्त्रियः
181. प्रमा करणं प्रमाणम् । अत्र च प्रमाणं लक्ष्यम् ।
 प्रमाकरणम् _____ ।
 (A) लक्षणम् (B) अलक्षणम्
 (C) गौणम् (D) गुणम्
182. ज्ञातविषयं ज्ञानं _____ ।
 (A) मतिः (B) भ्रमा
 (C) प्रमा (D) स्मृतिः
183. तच्च कारणं _____ ।
 (A) एकविधं (B) द्विविधम्
 (C) चतुर्विधम् (D) त्रिविधम्
184. तत्रायुतसिद्धयोः सम्बन्धः _____ ।
 (A) संयोगः (B) वियोगः
 (C) समवायः (D) मित्रत्वम्
185. _____ प्रमाकरणम् प्रत्यक्षम् ।
 (A) परोक्षकारी (B) साक्षात्कारी
 (C) भ्रमकारी (D) अतीन्द्रिय
186. आप्तवाक्यं _____ ।
 (A) पदम् (B) वर्णम्
 (C) शब्दः (D) समासः
187. _____ च देहेन्द्रियादिव्यतिरिक्तः प्रतिशरीरं भिन्नो
 नित्यो विभुश्च ।
 (A) चक्षुः (B) वायुः
 (C) आत्मा (D) मनः
188. शब्दः श्रोत्रग्राहो _____ ।
 (A) द्रव्यम् (B) सामान्यम्
 (C) सम्बन्धः (D) गुणः
189. वादिप्रतिवादिनो सम्प्रतिपत्तिविषयोऽर्थो _____ ।
 (A) विपर्ययः (B) संशयः
 (C) दृष्टान्तः (D) तर्कः
190. उभयसाधनवती विजिगीषुकथा _____ ।
 (A) जल्पः (B) वादः
 (C) वितन्डा (D) विवादः
191. _____ नामोपनिषत्प्रमाणं तदनुसारीणी शारीरिक
 सूत्राणि च ।
 (A) अद्वैतं (B) द्वैतं
 (C) तर्कः (D) वेदान्तो

192. _____ स्वर्गादीष्टसाधनानि ज्योतिष्टोमादीनि ।
 (A) निमित्तानि (B) कर्म्यानि
 (C) निष्काम्यानि (D) कर्माणि
193. _____ शोकमात्मवित् इत्यादि श्रुतेः ।
 (A) गच्छति (B) वितरति
 (C) तरति (D) पिबति
194. _____ ज्ञानेन्द्रियैः सहितं सन्मनोमयकोशो
 भवति ।
 (A) इन्द्रियाणि (B) मनस्तु
 (C) बुद्धिस्तु (D) वर्णानि
195. _____ नाम कण्ठस्थानीय ऊर्ध्वगमनवानुत्क्रमणवायुः ।
 (A) प्राणो (B) अपानो
 (C) व्यानो (D) उदानो
196. _____ इदं सर्वं यत्किञ्च जगत्यां जगत् ।
 (A) वनवास्यं (B) जलवास्यं
 (C) ईशावास्यं (D) न आवास्यं
197. _____ नाम् ते लोका अन्धेन तमसाऽऽवृताः ।
 (A) असुरा (B) असुर्या
 (C) आसुरी (D) असुरः
198. अविद्यया मृत्युं तीर्त्वा विद्यया _____ अश्नुते ।
 (A) अमृतं (B) मृतं
 (C) भोगं (D) सुखं
199. योसावसौ _____ सोऽहमस्मि ।
 (A) व्यक्तिः (B) स्त्री
 (C) देवः (D) पुरुषः
200. भूयिष्ठां ते _____ उक्तिं विधेम ।
 (A) मम (B) तव
 (C) सा (D) नम
201. अर्थवदधातुरप्रत्ययः _____ ।
 (A) वाक्यम् (B) प्रातिपदिकम्
 (C) संयोगः (D) प्रत्ययः
202. _____ अवसानम् ।
 (A) प्रयोगे (B) विरामो
 (C) प्रत्यये (D) वृद्धौ
203. शेषो _____ असखि ।
 (A) धातु (B) पद
 (C) घि (D) शब्द
204. अन्त्यादलः _____ वर्णः उपधासंज्ञः भवेत् ।
 (A) मध्यः (B) आदिः
 (C) पूर्वो (D) उत्तरः
205. इकोऽचि विभक्तौ। अस्य सूत्रस्य उदाहरणम्
 _____ ।
 (A) वारीणी (B) रमेशः
 (C) रामकृष्णः (D) प्रश्नः



206. हो ढः इति सूत्रस्य विवरणम्- हस्य _____
स्यात् झलि पदान्ते च।
(A) रः (B) जः
(C) छः (D) ढः
207. चतुर्णाम् इत्येदत् पदं _____ सूत्रस्य उदाहरणम्।
(A) तस्य परमाप्रेडितम्
(B) कानाम्प्रेडिते
(C) अचो रहाभ्यां द्वे
(D) छे च
208. रषाभ्यां नो _____ समानपदे।
(A) नः (B) मः
(C) णः (D) गः
209. युष्मदस्मदोरनादेशे-अस्य सूत्रस्य उदाहरणम्
_____।
(A) युवयोः (B) युवाभ्याम्
(C) युष्मासु (D) त्वम्
210. रेफवान्तयोर्धात्वोरुपधायाः इको _____ पदान्ते।
(A) ह्रस्वः (B) समः
(C) न्यूनम् (D) दीर्घः
211. शेषात्कर्तरि _____।
(A) आत्मनेपदम् (B) उभयपदम्
(C) परस्मैपदम् (D) पदम्
212. कर्त्रर्थे सार्वधातुके परे धातोः _____ स्यात्।
(A) ल्यप् (B) शप्
(C) क्त्वा (D) तत्
213. _____ इड्वलादेः।
(A) आर्धधातुकस्य
(B) सार्वधातुकस्य
(C) धातुकस्य
(D) सर्वस्य
214. भविता, भवितारौ _____।
(A) भवित्रः (B) भवितारः
(C) भवित्र्यः (D) भविताराः
215. टित आत्मनेपदनां टेः _____।
(A) ओ (B) ऐ
(C) ए (D) औ
216. अत्ति, अत्तः _____।
(A) अदति (B) अदत
(C) आद (D) अदन्ति
217. _____ हनाव, हनाम।
(A) हनासि (B) हनानि
(C) हन्ति (D) हनामि
218. दिवादिभ्यः _____।
(A) श्यन् (B) शप्
(C) ल्यप् (D) टि
219. परस्मैपदौ-तनोति। आत्मनेपदौ _____।
(A) तन्वते (B) अतनुत
(C) तनुते (D) तनोषि

220. क्रीणाति _____ क्रीणन्ति।
 (A) क्रीणतः (B) क्रिणितः
 (C) क्रीणीतः (D) क्रिणासि
221. कश्चित्कान्ताविरहगुरुणा _____ प्रमत्तः।
 (A) अहङ्कारात् (B) स्वाधिकारात्
 (C) अधिकारात् (D) उन्मत्तत्वात्
222. _____ परिणतगजप्रेक्षणीयं ददर्श।
 (A) वप्रक्रीडा (B) क्षिप्रक्रीडा
 (C) जलक्रीडा (D) रतिक्रीडा
223. प्रीतः प्रीतिप्रमुखवचनं _____ व्याजाहार।
 (A) निर्गतं (B) वाणी
 (C) सुस्वागतं (D) स्वागतं
224. _____ हि प्रकृतिकृपाणाश्चेतानाचेतनेषु।
 (A) रोगार्ताः (B) देहार्ताः
 (C) कामार्ताः (D) वित्तार्ताः
225. धूमज्योति सलिलमरुताम् सन्निपातेन _____ भवति।
 (A) वायुः (B) प्रपञ्चः
 (C) मेघः (D) पृथ्वी
226. याञ्चा मोघा वरमधिगुणे _____ लब्धकामा।
 (A) उत्तमे (B) मध्यमे
 (C) प्रथमे (D) नाधमे
227. हे मेघ! त्वां भुवनविदिते पुष्कारावर्तकानां वंशे जातं कामरूपं _____ प्रकृतिपुरुषं जानामि।
 (A) मेघोनः (B) वायुः
 (C) इन्द्रः (D) कुबेरः
228. मन्दं मन्दं नुदति _____ चानुकूलो यथा त्वाम्।
 (A) वायुः (B) अनिलः
 (C) मरुतः (D) पवनः
229. सम्पत्स्यन्ते _____ भवतो राजहंसाः सहायाः।
 (A) आकाशे (B) नभसि
 (C) वियति (D) अवकाशे
230. बर्हेणेव स्फुरितरुचिना _____ विष्णोः।
 (A) स्त्रीवेषस्य (B) गोपवेषस्य
 (C) चोरवेषस्य (D) मुग्धवेषस्य
231. प्राप्ते _____ भवति विमुखः किम् पुनर्यस्तथोच्चैः।
 (A) मित्रे (B) अमित्रे
 (C) दुष्टे (D) स्नेहे
232. रिक्तः सर्वो भवति हि लघुः पूर्णाता _____।
 (A) लाघवाय (B) यशसे
 (C) कीर्तये (D) गौरवाय
233. सोधोत्सङ्गप्रणयविमुखो मा स्म भूः _____।
 (A) अयोध्यायाः (B) वाराणस्याः
 (C) हस्तिनावत्याः (D) उज्जयिन्याः



234. हि स्त्रीणां प्रियेषु विभ्रमः _____ प्रणय-
वचनम् भवति।
(A) मध्यं (B) आद्यम्
(C) अन्त्यं (D) प्रथमं
235. अत्र प्रद्योतस्य प्रियदुहितरं _____ वत्सराजः
जहे।
(A) दमयन्तीं (B) शकुन्तलां
(C) वासवदत्तां (D) मालविकां
236. मा _____ प्रतिष्ठां त्वमगमः शाश्वतीः समाः।
(A) राजा (B) निषाद
(C) ब्राह्मण (D) शिष्य
237. वज्रादपि कठोराणि _____ कुसुमादपि।
(A) नयानि (B) रुजूनि
(C) मृदूनि (D) मध्यमं
238. _____ नाम ते लोकास्तैजसाः सन्तु ते शिवाः।
(A) विराजा (B) विरजा
(C) वैराजा (D) विरूपा
239. आरण्यकाश्चा गृहिणश्च रताः स्वधर्मे सांसारिकेषु
च सुखेषु वयं _____।
(A) रसज्ञाः (B) भाषज्ञाः
(C) मनुज्ञाः (D) गुणज्ञाः
240. उत्तररामचरिते _____ प्रवेशो नाम द्वितीयोऽङ्कः
समाप्तः।
(A) रामगिरी (B) चित्रकूट
(C) माहेन्द्र (D) पञ्चवटी
241. ग्लपयति परिपाण्डु क्षाममस्याः शरीरं शरदिज इव
_____ केतकीगर्भपत्रम्।
(A) घर्मः (B) तीक्ष्णः
(C) तीव्रः (D) मृदुः
242. एतानि तानि बहुनिर्झरकन्दराणि _____
परिसरस्य गिरेस्तटानि।
(A) नर्मदा (B) कृष्णा
(C) कावेरी (D) गोदावरी
243. त्वमेव ननु कल्याणि सज्जीवय _____।
(A) प्रजापतिम् (B) राघवेन्द्रम्
(C) जगत्पतिम् (D) राघवम्
244. अद्याप्यानन्दयति मां त्वं पुनः क्वासि ?
(A) नन्दिनी (B) भामिनी
(C) मोहिनी (D) धारिणी
245. मणिमुकुट इवोच्छिखः कदम्बे नदति स एष
वधूसखः _____।
(A) शिखन्डी (B) शिवा
(C) शिबिका (D) शिवानी

246. _____ पुनरपि जीवयन्नकस्मादानन्दादपरमि-
वादधाति मोहम्।
(A) स्पर्शः (B) संवादः
(C) संयोगः (D) संस्पर्शः
247. रामः वदति-अस्ति चेदानीमश्वमेधाय सहधर्मचारिणी
मे। अत्र सहधर्मचारिणी _____।
(A) हिरण्मयी सीताप्रतिकृतिः
(B) सीताप्रतिकृतिः
(C) हिरण्मयी वैदेही
(D) जानकी
248. एको रसः _____ एव निमित्तभेदात् भिन्नः
पृथक्पृथगिवास्त्रयते विवर्तान्।
(A) शृङ्गार (B) रौद्र
(C) करुण (D) बीभत्स
249. अन्तःप्रसुप्तदहनो ज्वलन्निव _____।
(A) कर्पूरः (B) काष्टराशिः
(C) वनस्पतिः (D) तृणराशिः
250. महाकवि श्रीभवभूतिविरचिते उत्तररामचरिते
_____ अङ्काः सन्ति।
(A) अष्ट (B) सप्त
(C) नव (D) दश
251. राजन्ति वलिवभङ्गाः स पातु _____ भवतः।
(A) दामोदरो (B) नारायणः
(C) हरिः (D) कृष्णः
252. यदयं नकुलद्वेषी स कुलद्वेषी पुनः _____
(A) सुभगः (B) पिशुनः
(C) दुष्टः (D) मूर्खः
253. सरसीव कीर्तिशेषं गतवति भुवि _____।
(A) रामे (B) धर्मराजे
(C) विक्रमादित्ये (D) दशरथे
254. _____ इव कृतवसुदेवतर्पणः।
(A) रामः (B) भीमः
(C) अर्जुनः (D) कृष्णः
255. आनकदुन्दुभिरिव कृतकाव्यादरः। अत्र आनकदुन्दुभि
नाम _____।
(A) वासुदेवः (B) वसुदेवः
(C) कंसः (D) उग्रसेनः
256. भरतो _____ दर्शितभक्तिरपि राज्ये
विराममकरोत् ।
(A) लक्ष्मणे (B) शत्रुघ्ने
(C) दशरथे (D) रामे
257. _____ दमयन्त्या मिलितस्यापि पुनर्भूपरिग्रहो
जातः ।
(A) अजस्य (B) नलस्य
(C) कालिदासस्य (D) हर्षस्य



258. _____ कटकसञ्चारिणो गन्धर्वान्
दर्शितशृङ्गोन्नतिह सुकयन्न विरराम् ।
(A) पर्वत (B) गिरि
(C) शृङ्ग (D) अचल
259. _____ अग्रेसरः, न भोगोत्सुकः, सुमनोहरश्च ।
(A) अग्निः (B) महानसः
(C) पावक (D) विद्युत्
260. भार्गवः इव सदानभोगः, _____ इव
सुमित्रोपेतः सुमन्त्राधिष्ठितश्च ।
(A) दशरथ (B) राम
(C) भरत (D) लक्ष्मण
261. हर इव जित _____, गुह इवाप्रतिहतशक्तिः
शूद्रक नाम राजा आसीत् ।
(A) रागः (B) मन्मथः
(C) योगः (D) मन्युः
262. विमानीकृतराजहंसमण्डलः, _____
लक्ष्मीप्रसूतिः शूद्रकः नाम राजा आसीत् ।
(A) गङ्गा (B) पर्वतमिव
(C) जलधिरिव (D) जानकी इव
263. यश्च मनसि धर्मेण, कोपे यमेन, प्रतापे _____
इव आसीत् ।
(A) वायुः (B) रुद्रः
(C) वह्निः (D) इन्द्रः
264. यस्मिन्श्च राजनि जितजगति परिपालयति महीं
चित्रकर्मसु _____ इव ॥
(A) वर्णसङ्करः (B) चिन्ताः
(C) वनस्पतिः (D) केशप्रहाः
265. उन्मद-कलहंस-कोलाहल-मुखरित-कूलया
वेत्रवत्यां परिगता _____ अभिधाना नगरी
राजधानी आसीत् ।
(A) अयोध्या (B) काशी
(C) पुरी (D) विदिशा
266. राजपुत्र्यैः सह रममाणः _____ वयसि
सुखमतिचिरमुवास ।
(A) द्वितीये (B) तृतीये
(C) प्रथमे (D) अन्तिमे
267. समीपवर्तीनां राज्ञामवलोक्य मुखानि “ को
_____, प्रवेश्यताम्” इत्यादिदेश ।
(A) दोषः (B) दोषा
(C) दोषं (D) दोषी
268. एत्दाकर्ण्य देवः _____ इत्युक्त्वा विरराम ।
(A) प्रमाणः (B) प्रमाणम्
(C) प्रमाणी (D) प्रामाणिकः
269. अतिशुद्ध-स्वभावमपि कृष्णचरितम्, अकरमपि
हस्थस्थित-सकल _____ राजानं अद्राक्षीत् ।
(A) भुवनतलं (B) देवतलं
(C) पातालं (D) रसातलं



270. _____ अस्थाने रूप-निष्पादनप्रयत्नः ।
(A) विधातुः (B) ब्रह्मणः
(C) चतुर्मुखस्य (D) पद्मनाभस्य
271. भाषाशास्त्रं च _____ विभागमर्हति।
(A) एकधा (B) द्विधा
(C) त्रेधा (D) चतुर्धा
272. _____ विभागएपदनिष्पत्तिप्रकारः सुप्-तिङादिविचाराश्च
विचारविषयीक्रियते।
(A) Morphology (B) Semantics
(C) Phonology (D) अन्यः
273. बन्धुभाषाः सर्वा अपि _____ स्वकूटस्थभाषात एव
प्रकृतिशब्दान् स्विकुर्वन्ति इति नायमेकान्तः।
(A) सहोदराः (B) मातरः
(C) सोदर्यः (D) सोदरी
274. _____ तु नैव तत्र अस्मदाशां सुलभतया
पूर्येत्।
(A) अप्रत्यक्षम् (B) अवबोधनं
(C) विचाराः (D) प्रत्यक्षप्रमाणं
275. गैर्वाण्यां पुनः _____ तिङन्तान् भ्वादीन्
बोधयति।
(A) अशब्दः (B) पदानि
(C) वर्णाः (D) धातुशब्दः
276. प्रथमं धातवः, ततः प्रत्यायादिसम्बन्धेन _____
परिणामः।
(A) सुबन्तादि (B) दिगन्तादि
(C) युगादि (D) वर्षादि
277. _____ प्रयोजनं हि जनानां परस्परमाशयविनिमय
एव।
(A) वर्णानां (B) वस्तूनां
(C) भाषायाः (D) वाहनानां
278. यस्माद्वंशात् _____ ग्रीक्-लेटिन् भाषादयः
समुत्पन्नाः सोऽयम् इण्डोजर्मनिक् वंशः।
(A) कन्नड (B) संस्कृत
(C) मराठी (D) गुजराती
279. _____ शास्त्रेण साकं भाषाशास्त्रस्य अस्ति
सम्बन्धविशेषः।
(A) भौतिक (B) जैविक
(C) रासायनिक (D) प्राकृतिक
280. शब्दान् शब्दनिष्पत्तिमपि विपरिणमयति _____
परिणितिः।
(A) वर्ण (B) अक्षर
(C) ध्वनि (D) पद



281. Which of these approaches is multi-cultural in its approach, with activities centered around events from various cultures ?
- (A) Inter-group education approach
 - (B) Additive approach
 - (C) Contributions approach
 - (D) Cultural approach
282. Acquiring basic skills in comprehending, speaking, reading and writing the language is known as
- (A) Literacy development
 - (B) Literary development
 - (C) Language development
 - (D) Both (B) and (C)
283. Which of these prevent the cultivation of the art of narration ?
- (A) Observing skilful narrators
 - (B) Using proper gestures
 - (C) Breaks in logical sequence
 - (D) Using similes
284. Questions that are asked at the beginning of a lesson are known as
- (A) Introductory
 - (B) Developmental
 - (C) Testing
 - (D) Recapitulatory
285. Which of these questions should be put at the end of the lessons and helps the teacher know if the students have picked up what they were supposed to learn ?
- (A) Evaluation questions
 - (B) Testing questions
 - (C) Recapitulatory questions
 - (D) Development questions
286. Knowledge based questions are considered at which level of questioning ?
- (A) Higher order
 - (B) Middle order
 - (C) Lower order
 - (D) Intermediate order
287. Higher order questions are related to which of the following ?
- (A) Recall
 - (B) Recognition
 - (C) Interpretation
 - (D) Evaluation
288. A blog provides information on the World Wide Web and when limited content can only be sent at a time, it is known as
- (A) Group blog
 - (B) Individual blog
 - (C) Micro blog
 - (D) Mega blog
289. An electronic version of a printed book is also known as
- (A) E-blog
 - (B) E-book
 - (C) V-blog
 - (D) Blog

281. निम्नलिखित में से कौन-से तरीके बहु सांस्कृतिक है जिसमें गतिविधियाँ विभिन्न संस्कृतियों से आयोजनों के चारों ओर केंद्रित होती हैं ?
 (A) अंतर-समूह शिक्षा तरीका
 (B) योगात्मक तरीका
 (C) योगदान का तरीका
 (D) सांस्कृतिक तरीका
282. भाषा के बोध, बोलने, पढ़ने और लिखने में मूलभूत कौशलों का अधिग्रहण _____ कहलाता है ।
 (A) साक्षरता विकास
 (B) साहित्यिक विकास
 (C) भाषाई विकास
 (D) (B) और (C) दोनों
283. निम्नलिखित में से कौन-सा कथन की कला के संवर्धन को रोकता है ?
 (A) कुशल कहने वाला ढूँढ़ना
 (B) समुचित हाव-भाव का प्रयोग
 (C) तार्किक क्रम में रुकावट
 (D) रूपकों का प्रयोग
284. पाठ के आरंभ में पूछे जाने वाले प्रश्न _____ कहलाते हैं ।
 (A) परिचायक
 (B) विकासात्मक
 (C) परीक्षण
 (D) पुनर्कथनीय
285. निम्नलिखित में से कौन से प्रश्न पाठ के अंत में पूछे जाने चाहिए और वे शिक्षक को यह जानने में सहायता करते हैं कि विद्यार्थियों ने वह ग्रहण किया अथवा नहीं जो उनसे ग्रहण करना अपेक्षित था ?
 (A) मूल्यांकन प्रश्न
 (B) परीक्षण प्रश्न
 (C) पुनर्कथन प्रश्न
 (D) विकासात्मक प्रश्न
286. ज्ञान आधारित प्रश्नों पर प्रश्न पूछने के किस स्तर पर विचार किया जाता है ?
 (A) उच्च श्रेणी
 (B) मध्य श्रेणी
 (C) निम्न श्रेणी
 (D) मध्यवर्ती श्रेणी
287. उच्च श्रेणी के प्रश्न निम्नलिखित में से किससे संबंधित है ?
 (A) पुनःस्मरण
 (B) पहचान
 (C) व्याख्या
 (D) मूल्यांकन
288. एक ब्लॉग वर्ल्ड वाइड वेब पर सूचना उपलब्ध कराता है तब जब एक समय पर केवल सीमित सामग्री भेजी जा सकती है, _____ कहलाता है ।
 (A) समूह ब्लॉग
 (B) वैयक्तिक ब्लॉग
 (C) सूक्ष्म ब्लॉग
 (D) बृहत ब्लॉग
289. एक मुद्रित पुस्तक का इलेक्ट्रॉनिक संस्करण कहलाता है
 (A) ई - ब्लॉग (B) ई - बुक
 (C) वी - ब्लॉग (D) ब्लॉग



290. When a student is taught to use the language as a medium of thinking, it is known as _____ development.
(A) Functional (B) Language
(C) Learner (D) Literacy
291. Which of these is the core of the educational process ?
(A) Development
(B) Practice
(C) Learning
(D) Thinking
292. Learning which involves differentiating between stimuli and showing appropriate response to these stimuli is called _____ learning.
(A) Verbal learning
(B) Discrimination learning
(C) Cognition learning
(D) Motor learning
293. Visual learning through images, auditory learning through listening and kinetic learning through physical activities are concerned with _____ learning.
(A) Sensory
(B) Cognition
(C) Verbal
(D) Multifactorial
294. Explicit attention is a part of which type of attention ?
(A) Involuntary attention
(B) Implicit attention
(C) Volitional attention
(D) Spontaneous attention
295. Olfactory sensation is related to which type of stimulus ?
(A) Visual (B) Odor
(C) Taste (D) Auditory
296. A meaningful interpretation of received stimuli through sensation is called
(A) Perception (B) Motivation
(C) Behaviour (D) Learning
297. A sense experienced in the absence of a stimulus is known as
(A) Hallucination (B) Illusion
(C) Perspective (D) Delusion
298. Immediate memory that helps an individual recall something immediately after it is perceived is known as which type of memory ?
(A) Experiential (B) Long-term
(C) Short-term (D) Sensory
299. What is the drive that inspires to move towards one's goal ?
(A) Learning (B) Motivation
(C) Practice (D) Beliefs
300. A focused careful analysis of something is known as
(A) Creative thinking
(B) Collaborative thinking
(C) Critical thinking
(D) Constructive thinking

290. जब एक विद्यार्थी को सिखाया जाता है कि भाषा सोचने का एक माध्यम है, तो यह _____ विकास कहलाता है ।
 (A) कार्यात्मक (B) भाषा
 (C) अध्येता (D) साक्षरता
291. निम्नलिखित में से कौन-सा शिक्षण प्रक्रिया का केंद्र है ?
 (A) विकास
 (B) अभ्यास
 (C) अध्ययन
 (D) विचारण
292. अध्ययन जिसमें उद्दीपक और उन उद्दीपकों के प्रति उपयुक्त प्रतिक्रिया दर्शाने में अंतर करना शामिल है, _____ अध्ययन कहते हैं ।
 (A) मौखिक अध्ययन
 (B) वंचन अध्ययन
 (C) संज्ञानात्मक अध्ययन
 (D) प्रेरक अध्ययन
293. प्रतिबिंबों द्वारा दृश्य अध्ययन, सुनने द्वारा श्रवण अध्ययन और शारीरिक गतिविधियों द्वारा गतिज अध्ययन _____ अध्ययन से जुड़े हैं ।
 (A) संवेदी
 (B) संज्ञानात्मक
 (C) मौखिक
 (D) बहुकारकीय
294. स्पष्ट एकाग्रता किस प्रकार की एकाग्रता का भाग है ?
 (A) अनैच्छिक एकाग्रता
 (B) अंतर्निहित एकाग्रता
 (C) स्वैच्छिक एकाग्रता
 (D) त्वरित एकाग्रता
295. घ्राण संवेदन किस प्रकार के उद्दीपक से संबंधित है ?
 (A) दृश्य (B) गन्ध
 (C) स्वाद (D) श्रवण
296. संवेदन के माध्यम से ग्रहित उद्दीपक की अर्थपूर्ण व्याख्या _____ कहलाती है ।
 (A) दृष्टिकोण (B) प्रेरणा
 (C) व्यवहार (D) अध्ययन
297. एक उद्दीपक की अनुपस्थिति में अनुभव की जाने वाली संवेदना _____ कहलाती है ।
 (A) भ्रम (B) भ्रांति
 (C) दृष्टिकोण (D) छलावा
298. तुरंत स्मृति जो व्यक्ति को उसकी प्राप्ति के तुरंत बाद किसी चीज को याद करने में सहायता करती है, किस प्रकार की स्मृति कहलाती है ?
 (A) अनुभवजन्य (B) दीर्घ-कालिक
 (C) लघु-कालिक (D) संवेदी
299. वह क्या चीज है जो किसी को उसके लक्ष्य की ओर बढ़ाती है ?
 (A) अध्ययन (B) प्रेरणा
 (C) अभ्यास (D) विश्वास
300. किसी चीज का केंद्रित ध्यानपूर्वक विश्लेषण _____ कहलाता है ।
 (A) रचनात्मक विचारण
 (B) सहयोगात्मक विचारण
 (C) समीक्षात्मक विचारण
 (D) संरचनात्मक विचारण



SPACE FOR ROUGH WORK

रफ कार्य के लिए स्थान



SPACE FOR ROUGH WORK

रफ कार्य के लिए स्थान