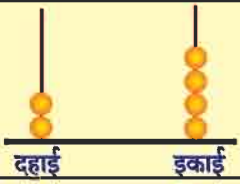
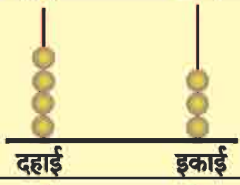
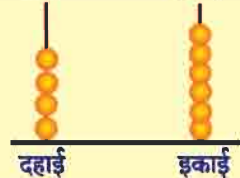


पाठ 8

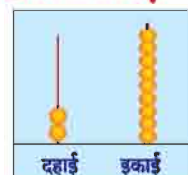
इकाई दहाई, विस्तारित रूप व संख्याओं में तुलना

गिनतारा में देखकर संख्या लिखिए

 <p>दहाई इकाई</p>	<p>24</p>
 <p>दहाई इकाई</p>	<p>○</p>
 <p>दहाई इकाई</p>	<p>○</p>

दो अंको की संख्या के रूप में लिखिए एवं गिनतारा पर संख्या बनाएँ

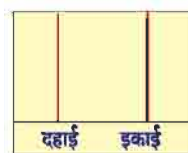
2 दहाइयाँ और 9 इकाइयाँ से 29 बनता है।



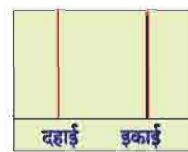
3 दहाइयाँ और 5 इकाइयाँ से ○ बनता है।



5 दहाइयाँ और 0 इकाई से ○ बनता है।



1 दहाई और 6 इकाइयाँ से ○ बनता है।

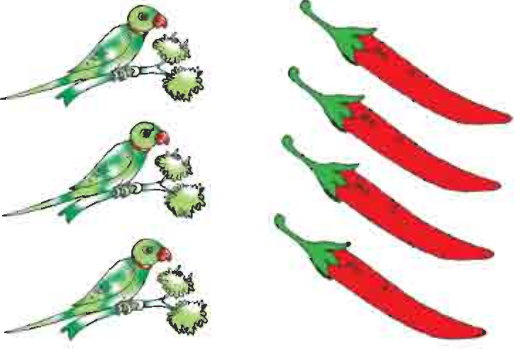


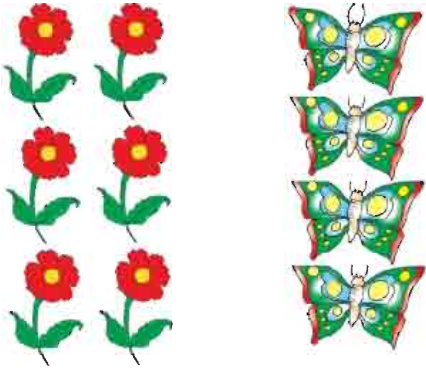


विस्तारित रूप

22	=	20 और 2	$20 + 2$
28	=	20 और 8	$20 + 8$
18	=		
27	=		
34	=		
38	=		
37	=		
39	=		
43	=		
45	=	40 और 5	$40 + 5$
23	=	20 और 3	$20 + 3$
29	=	20 और 9	$20 + 9$
27	=		
31	=		
38	=		
36	=		



कौन ज्यादा, कौन कम

 <p><input type="text" value="3"/> कम है <input type="text" value="4"/> से</p>	 <p><input type="text"/> ज्यादा है <input type="text"/> से</p>
 <p><input type="text"/> कम है <input type="text"/> से</p>	 <p><input type="text"/> ज्यादा है <input type="text"/> से</p>



एक कम-एक अधिक संख्या लिखिए

एक कम	संख्या	एक अधिक
6	7	8
	15	
	12	
	18	
	14	
	21	
	30	
	39	

एक कम	संख्या	एक अधिक
7	8	9
	25	
	16	
	32	
	39	
	40	
	46	
	47	



1 बढ़ाकर संख्या लिखिए

2	→	3
5	→	
6	→	

1	→	
4	→	
7	→	

2 बढ़ाकर संख्या लिखिए

3	→	5
7	→	
4	→	
8	→	

2	→	
3	→	
5	→	
6	→	

3 बढ़ाकर संख्या लिखिए

2	→	5
3	→	
4	→	
6	→	

3	→	
1	→	
2	→	
4	→	



अभ्यास

1 कम कर संख्या लिखिए

2	←	3
	←	5
	←	8

	←	9
	←	6
	←	2

2 कम कर संख्या लिखिए

2	←	4
	←	7
	←	9

	←	3
	←	5
	←	7

3 कम कर संख्या लिखिए

0	←	3
	←	6
	←	8

	←	4
	←	6
	←	8



अभ्यास

दी गई संख्या के बाद की संख्या में लिखिए

3	<input type="text"/> 4	17	<input type="text"/>	22	<input type="text"/>
25	<input type="text"/>	48	<input type="text"/>	34	<input type="text"/>

दी गई संख्या के पहले की संख्या में लिखिए

<input type="text"/> 2	3	<input type="text"/>	7	<input type="text"/>	15
<input type="text"/>	22	<input type="text"/>	36	<input type="text"/>	49

दी गई संख्याओं के बीच की संख्या में लिखिए

13	<input type="text"/> 14	15	22	<input type="text"/>	24
34	<input type="text"/>	36	47	<input type="text"/>	49

खाली स्थान भरिए

12	13	14	<input type="text"/>	15	16	17	<input type="text"/>	19
<input type="text"/>	24	25	27	<input type="text"/>	29	<input type="text"/>	33	34



अभ्यास

पैटर्न पहचान कर आगे की संख्याएँ लिखिए

2, 4, 6 <input type="text"/> <input type="text"/>	4, 8, 12 <input type="text"/> <input type="text"/>
1, 3, 5 <input type="text"/> <input type="text"/>	10, 20, 30 <input type="text"/> <input type="text"/>
3, 6, 9 <input type="text"/> <input type="text"/>	11, 22, 33 <input type="text"/> <input type="text"/>

उल्टी गिनती लिखिए

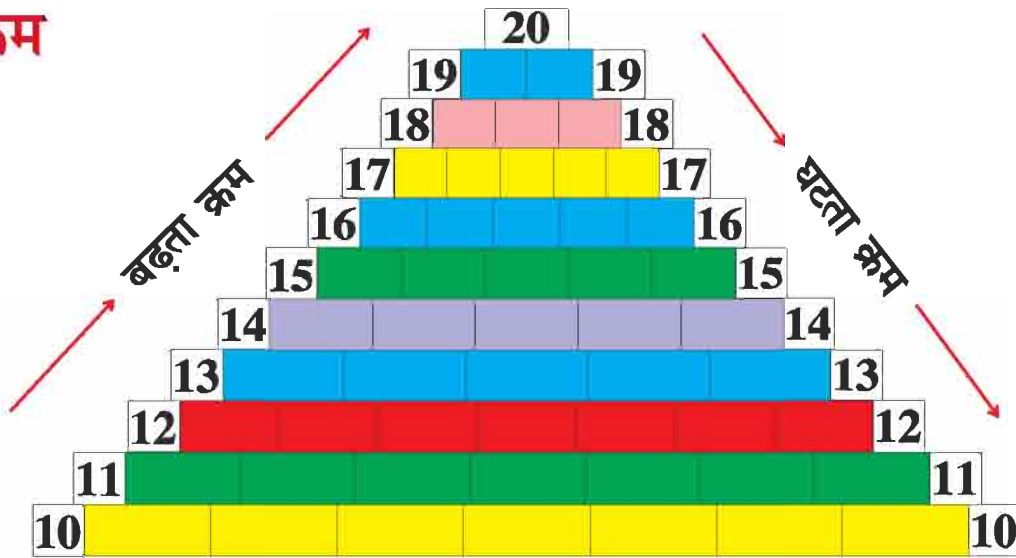
एक के अंतर से									
10	9	8							
20	19	18							

दो के अंतर से									
20	18	16							
27	25	23							

तीन के अंतर से									
39	36	33							
46	43	40							



क्रम



10 से 20 का क्रम

10	11	12	13	14	15	16	17	18	19	20
----	----	----	----	----	----	----	----	----	----	----

20 से 10 का क्रम

20	19	18	17	16	15	14	13	12	11	10
----	----	----	----	----	----	----	----	----	----	----

बढ़ते क्रम में लिखिए

7, 15, 8, 19, 28

7, 8, 15, 19, 28

1, 4, 2, 9, 35, 30

.....

8, 11, 3, 41, 22

.....

5, 50, 6, 10, 49, 39

.....

घटते क्रम में लिखिए

10, 25, 5, 35, 49

49, 35, 25, 10, 5

48, 36, 42, 2, 12

.....

23, 39, 8, 50, 5

.....

11, 23, 4, 36, 42

.....

